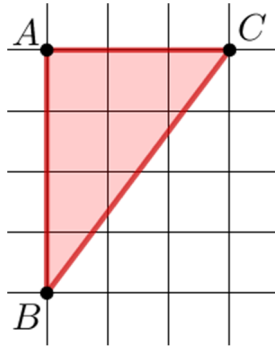


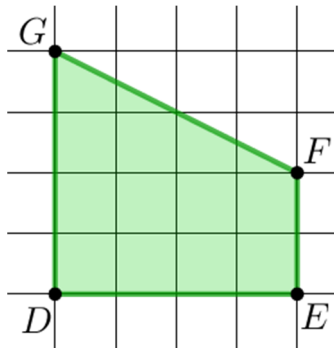
Mathématique SIXIÈME Aire Thiaude

Les carreaux sont des carrés de 1 cm de côté.

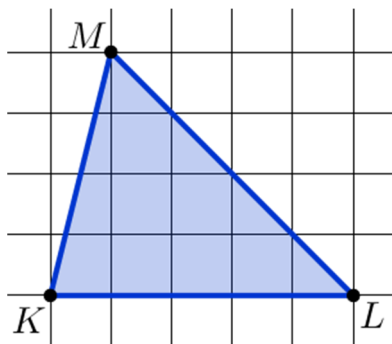
Exercice Aire 01



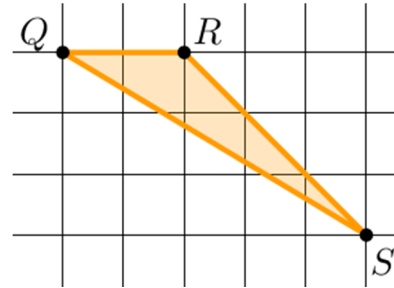
Exercice Aire 02



Exercice Aire 03



Exercice Aire 04



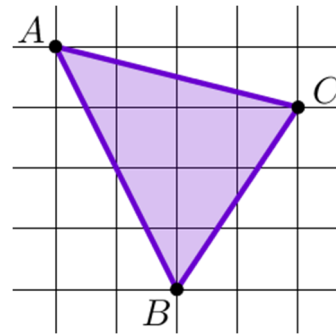
Exercice Aire 05

Une piscine rectangulaire a une aire de 78 m^2 et sa longueur est 12 m : quelle est sa largeur ?

Exercice Aire 06

Une tartelette a un diamètre de 6 cm . Déterminer la valeur exacte de son aire puis l'arrondi au cm^2 (on utilisera $\pi \approx 3,1416$).

Exercice Aire 07



Exercice Aire 08

Un biscuit circulaire dont l'une des faces est chocolatée a un rayon de 2 cm . Déterminer la valeur exacte de l'aire de la face chocolatée puis l'arrondi au cm^2 (on utilisera $\pi \approx 3,1416$).

Exercice Aire 09

